


III муниципальная предметная олимпиада для детей с ограниченными возможностями здоровья
Предметная область: Естествознание
1 класс

Участник: _____

Руководитель: _____

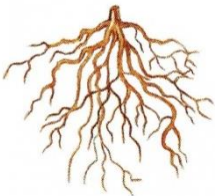
Образовательное учреждение: _____

1. Как выглядит флаг России? Соедини стрелочками цвет и последовательность.



2. Что есть у **ВСЕХ** растений. Отметь крестиком.

Корень



Стебель



Соцветие



Лист




Ягоды



3. Отгадай загадку. **Всю зиму лежит, а весной убежит.** Отметь крестиком правильную картинку.




4. Рассмотрите фотографии и рисунки. Отметь крестиком, что **ОПАСНО!**



5. Найди рисунок реки, поставь крестик.



6. Определите, чьи постройки показаны на рисунке. Соедини животное со своим жилищем линией.



7. Кто из ребят правильно рассортировал мусор? Отметь крестиком.




8. Пронумеруй дни недели по порядку.

	Среда
	Понедельник
	Воскресенье
	Четверг
	Суббота
	Вторник
	Пятница

9. Распредели животных по районам обитания (проведите стрелочки).

Холодные районы



Жаркие районы

10. Укажи стрелочками части велосипеда.

Руль

Рама


Колесо

Педали

Спицы

Багажник

Фонарь



11. Соедини стрелочкой название времени и картинку






Прошедшее время	Настоящее время	Будущее время
------------------------	------------------------	----------------------



12. Выбери картинки – что можно делать в лесу.



13. Распредели животных (проведи стрелочки).

<p>Домашние животные</p>	     	<p>Дикие животные</p>
--------------------------	--	-----------------------

14. Выбери птиц, которые живут на Урале постоянно и не улетают в теплые края зимой.

