

Муниципальное казенное учреждение Белоярского городского округа
«Управление образования Белоярского городского округа» Муниципальное
автономное общеобразовательное учреждение «Белоярская средняя
общеобразовательная школа №1»

**III Муниципальная предметная олимпиада для детей с ограниченными
возможностями здоровья**

Направление: Естествознание. Окружающий мир.


3 класс

Участник: _____

Руководитель: _____

Образовательное учреждение: _____

1. Обведи букву правильного ответа.



Когда говорят: «Дрожит, как лист», какое дерево подразумевают?

а) тополь; б) осину; в) дуб; г) клён; д) берёзу

2. Обведи букву правильного ответа.

Этот газ занимает пятую часть объёма воздуха, поддерживает горение, необходим для дыхания живым существам:

а) азот; б) кислород; в) углекислый газ



3. Укажи стрелкой, что к чему приводит.

Браконьерство

Выброс выхлопных газов автомобилями

Заготовка древесины

Вырубка леса по берегам рек


Обмеление рек

Исчезновение видов животных

Загрязнение воздуха

Уменьшение количества лесов на земле

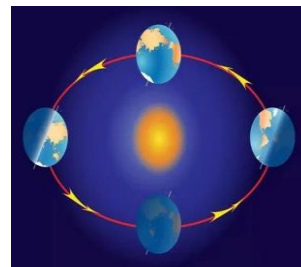
4. О каком свойстве воды мы говорим, когда видим в стакане, опущенную ложку?



- а) вода прозрачна б) вода бесцветна в) вода является растворителем

5. Напиши понятия, соответствующие указанным определениям.


- 1) Прибор, с помощью которого наблюдают за звездами _____
- 2) Человек, который изучает звезды и другие небесные тела _____
- 3) Время, за которое Земля совершает полный круг вокруг Солнца _____
- 4) Воздушная оболочка Земли _____



6. Название этого дерева происходит от слова «лист», а вот листьев на нем как раз и нет.



7. Напиши 3 названий птиц на букву «С» и 3 названий рыб на букву «К».



ПТИЦЫ: _____

РЫБЫ: _____

8. Что нужно семенам для прорастания?

- а) свет, вода и углекислый газ
- б) перегной, глина и песок
- в) тепло, вода, воздух



9. Переставь местами буквы, чтобы получить слова:

Поделочный камень Х А М А И Т Л _____

Дерево З Ё Р А Б Е _____

Насекомое К Р О З Е С Т А _____

10. Выбери правильный ответ. Обведи букву, соответствующую правильному ответу. Какая наука изучает строение тела человека?



- а) Биология
- б) Физиология
- в) Анатомия
- г) Экология

11. Из зёрен и плодов каких растений изготавливают крупы:

Манную - _____

Перловую - _____

Гречневую - _____

Пшено - _____



12. Узнай животное по описанию:



Эта птица размером со скворца. Оперение тёмно-бурое, густое, не смачивающееся. Обитает по берегам быстрых рек и ручьёв. Питается водными насекомыми и рачками, которых она собирает на мелководье, между камней и под водой. Главной особенностью являются способность хорошо плавать и нырять. Приподнимая крылья и ловко маневрируя в потоке воды, птица как бы «бежит» по дну. Под водой она может оставаться до 50 секунд, пробегая за это время до 20 м. Гнездо устраивает всегда близ воды, между береговыми камнями или в норах, построенных из мха и стебельков трав.

Это- _____

13. Разгадай метаграммы. Запиши слова.

С «м» меха я пожираю, _____

С «б» смертельна я бываю, _____

С «р» актеру я нужна, _____

С «с» для повара важна. _____

14. Разгадай ребусы:



1,4,3,2,5=Д

15. Найди и закрась названия животных, деревьев и грибов леса.

Б	А	Р	С	Б	О	С	И
С	О	С	У	М	Е	У	Н
Я	Т	Н	К	У	Д	В	А
Д	Е	А	Л	К	А	Е	Д
К	Л	Б	Е	М	Н	С	Ь
А	Б	А	Н	У	Р	О	Д
М	У	Й	Е	В	А	В	А
Р	Х	О	М	О	Р	У	К