

III муниципальная предметная олимпиада для детей с ограниченными возможностями здоровья
Предметная область: Естествознание.
6 класс

Участник: _____




Руководитель: _____

Образовательное учреждение: _____

1. Что такое культурные растения?

- а) растения, которые высаживает человек и ухаживает за ними;
- б) растения, которые растут в садах и огородах;
- в) растения, которые растут без помощи человека;
- г) растения, которые растут в лесах и на полянах.

2. Какие растения встречаются в лесу:

				
орешник	ландыш	ковыль	кувшинка	дуб

3. Как называют люди бурого медведя (подчеркнуть):

санитар леса, царь зверей, хозяин тайги

4. Сколько раз в день рекомендуется питаться (подчеркнуть):

два, три, четыре, шесть.

5. Разгадайте ребусы.

6. Внимательно прочти и обведи букву выбранного ответа.

Твой друг заболел гриппом. У него поднялась высокая температура. Какие ягоды помогут сбить температуру у твоего друга?



А. Клубника



Б. Малина



В. Вишня

7. Распределите растения в два столбика.

Растения: *ель, тополь, сосна, клён, лиственница, яблоня.*

1.Лиственные деревья:	2.Хвойные деревья:

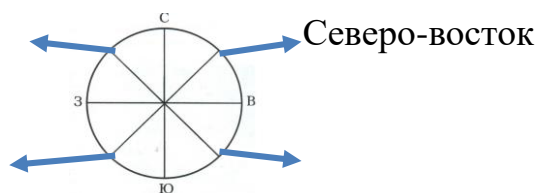
8. Подчеркни названия лекарственных растений.

Календула, огурцы, шиповник, картофель, ромашка, сирень, малина.

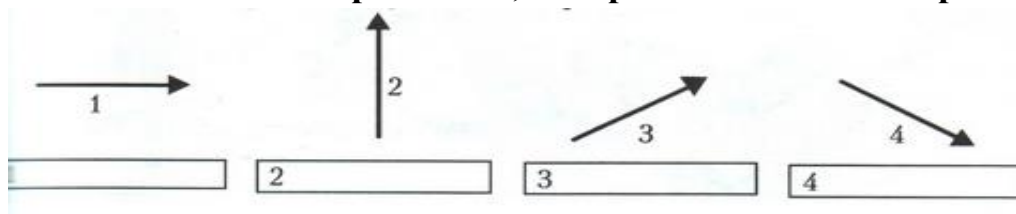
9. Больной в палате разговаривал с врачами. Они рассказали, что комнатные растения влияют на воздух в помещении. Больной решил расставить растения по всей больнице. Если он это сделает, что случится с воздухом?

- А.** Воздух станет чистым и свежим **Б.** Температура воздуха станет выше
В. Из-за растений станет тяжело дышать **Г.** Воздух станет пыльным и загазованным

10. Подпиши названия промежуточных сторон горизонта.



11. Подпиши направления, которые показывают стрелки



12. С чем связана смена дня и ночи?

- А)** С движением Земли вокруг Солнца **Б)** С вращением Земли вокруг собственной оси

13. Прочитай текст и скажи, кто прав?

«Поспорили три товарища. Один говорит: «До линии горизонта дойти нельзя, она очень далеко». Второй отвечает: «Дойти нельзя, а доехать на машине можно». Третий спорит с ними: «До линии горизонта ни доехать, ни дойти нельзя, потому что такой линии на самом деле нет».

Ответ: прав _____ товарищ, потому что _____.

14. Отметь, какая погода характерна для весны

- А) Дует сильный холодный ветер, небо часто затянуто тучами. Всё чаще идет снег и устанавливается постоянный снежный покров. Воздух становится всё холоднее.
- Б) Небо всё чаще освобождается от туч, появляются белые крупные облака. Температура воздуха постепенно повышается, снега становится все меньше, появляется первая трава.
- В) Днем солнце стоит высоко над горизонтом, если нет облаков, то погода довольно жаркая. Иногда идет дождь. Трава и листья деревьев зеленые.

15. Выбери верные утверждения и запиши их номера.

1	В сутках 24 часа.
2	Высота Солнца над Землей всегда одинакова.
3	День и ночь не всегда бывают одинаковой продолжительности.
4	Солнце вращается вокруг Земли.
5	Земля вращается вокруг Солнца.

Верные утверждения: _____