

III муниципальная предметная олимпиада для детей с ограниченными возможностями здоровья
Предметная область: Окружающий мир
10 класс (СИПР)

Участник: _____

Руководитель: _____

Образовательное учреждение: _____

1. Соотнеси верно, проведя линии:

Фамилия	Имя	Отчество
---------	-----	----------

Глеб

Алексеев

Андреевич

2. На картинке нарисован(а) мальчик/девочка (нужное подчеркнуть)?

Расставь цифры от 1 до 6 по порядку от младшего к старшему.

					
1					

3. Продолжи предложения.

1) Мама моей мамы мне _____




2) Папа моего брата мне _____

3) Сын моей дочери будет мне _____

4. Выбери ребят, которые поступают правильно. Отметь несколько ответов.



5. Соотнеси названия здания и картинку, проведя линии:

Музей	Школа	Больница
		

6. Подпиши какие профессии у этих людей. Что необходимо людям разных профессий, отметь нужным цветом.



●	●	●
---	---	---



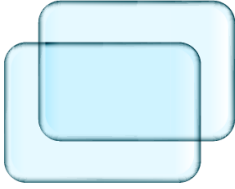

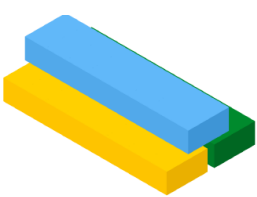










 ○	 ○	 ○	 ○	 ○	 ○
 ○	 ○	 ○	 ○	 ○	 ○
 ○	 ○	 ○	 ○	 ○	 ○

7. Подпиши времена года у каждой картинке. Соотнеси праздник со временем года, когда он отмечается.







День победы (9 мая) — _____
 День знаний (1 сентября) — _____
 День Защитника Отечества (23 февраля) — _____
 День защиты детей (1 июня) — _____

8. Соотнеси из каких материалов изготовлены предметы. Выбери несколько ответов.

					
РЕЗИНА	МЕТАЛЛ	СТЕКЛО	ДЕРЕВО	ПЛАСТИК	
					
					

9. Разгадай ребусы. Подбери общее название для отгаданных слов.

ТИ 	Л  Ъ	КА 	О 

Общее название:

10. Выбери для каждого из 5 чувств ОДНУ картинку с необходимой частью тела и ОДНУ картинку с предметом, который можно «узнать» при помощи этого чувства. Картинки повторяться не могут.

				
ОСЯЗАНИЕ	СЛУХ	ОБОНЯНИЕ	ВКУС	ЗРЕНИЕ
				