






## Олимпиада по природоведению для 6 класса

### 1. Что такое культурные растения?

- а) растения, которые высаживает человек и ухаживает за ними;
- б) растения, которые растут в садах и огородах;
- в) растения, которые растут без помощи человека;
- г) растения, которые растут в лесах и на полянах.

### 2. Какие растения встречаются в лесу:

				
орешник	ландыш	ковыль	кувшинка	дуб

### 3. Как называют люди бурого медведя: санитар леса, царь зверей, хозяин тайги

### 4. Сколько раз в день рекомендуется питаться: два, три, четыре, шесть.

### 5. Разгадайте ребусы.

### 6. Внимательно прочти и обведи букву выбранного ответа.

Твой друг заболел гриппом. У него поднялась высокая температура. Какие ягоды помогут сбить температуру у твоего друга?



А. Клубника

Б. Малина

В. Вишня

### 7. Распределите растения в два столбика. Растения: ель, тополь, сосна, клён, лиственница, яблоня.

1. Лиственные деревья:	2. Хвойные деревья:

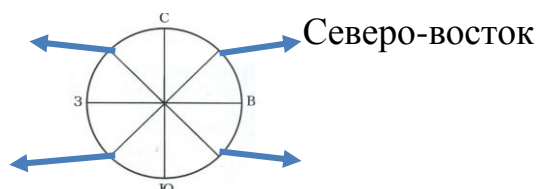
### 8. Подчеркни названия лекарственных растений.

Календула, огурцы, шиповник, картофель, ромашка, сирень, малина.

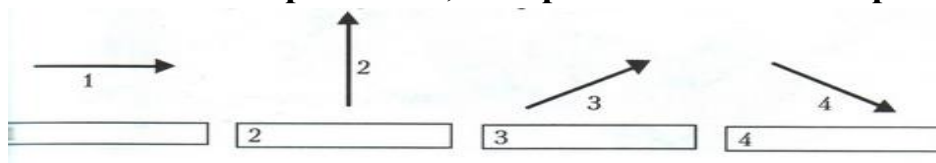
9. Больной в палате разговаривал с врачами. Они рассказали, что комнатные растения влияют на воздух в помещении. Больной решил расставить растения по всей больнице. Если он это сделает, что случится с воздухом?

- А. Воздух станет чистым и свежим      Б. Температура воздуха станет выше  
В. Из-за растений станет тяжело дышать      Г. Воздух станет пыльным и загазованным

### 10. Подпиши названия промежуточных сторон горизонта.



### 11. Подпиши направления, которые показывают стрелки



### 12. С чем связана смена дня и ночи?

- А) С движением Земли вокруг Солнца      Б) С вращением Земли вокруг собственной оси

### 13. Прочитай текст и скажи, кто прав?

«Поспорили три товарища. Один говорит: «До линии горизонта дойти нельзя, она очень далеко». Второй отвечает: «Дойти нельзя, а доехать на машине можно». Третий спорит с ними: «До линии горизонта ни доехать, ни дойти нельзя, потому что такой линии на самом деле нет».

Ответ: прав \_\_\_\_\_ товарищ, потому что \_\_\_\_\_.

### 14. Отметь, какая погода характерна для весны

- А) Дует сильный холодный ветер, небо часто затянуто тучами. Всё чаще идет снег и устанавливается постоянный снежный покров. Воздух становится всё холоднее.  
Б) Небо всё чаще освобождается от туч, появляются белые крупные облака. Температура воздуха постепенно повышается, снега становится все меньше, появляется первая трава.  
В) Днем солнце стоит высоко над горизонтом, если нет облаков, то погода довольно жаркая. Иногда идет дождь. Трава и листья деревьев зеленые.

### 15. Выбери верные утверждения и запиши их номера.

1	В сутках 24 часа.
2	Высота Солнца над Землей всегда одинакова.
3	День и ночь не всегда бывают одинаковой продолжительности.
4	Солнце вращается вокруг Земли.
5	Земля вращается вокруг Солнца.

Верные утверждения: \_\_\_\_\_